

Sverige i siffror

Snabba och enkla fakta med övningar

SCB






Innehåll

| | |
|--|----|
| SCB beskriver Sverige med statistik..... | 4 |
| Människorna i Sverige..... | 6 |
| Utbildning, jobb och pengar..... | 14 |
| Samhällets ekonomi..... | 20 |
| Facit..... | 27 |

Statistikmyndigheten SCB är en statlig myndighet. Vår uppgift är att ta fram och sprida statistik. Vi gör det på uppdrag av regeringen och riksdagen. Vår statistik används som underlag till beslut, forskning och debatt. All officiell statistik finns på www.scb.se.

Källan till statistiken i detta häfte är från SCB. Statistiken är från 2018 och 2019.

-
-  [statistiska_centralbyran_scb](#)
 -  [@scb_nyheter](#)
 -  [statistiskacentralbyranscb](#)
-

Fråga oss om statistik!

Statistikservice
Telefon: 010-479 50 00
E-post: information@scb.se

Postadress:
SCB, Box 24300, 104 51 Stockholm

Besöksadress:
Karlavägen 100, Stockholm
Klostergatan 23, Örebro

ISBN: 978-91-618-1663-7
Tryckt i Sverige
Åtta.45 Tryckeri AB, Stockholm 2020.03
Tredje upplagan

SCB beskriver Sverige med statistik

Statistiken är viktig för samhället. Den berättar om nutiden, dåtiden och framtiden. Med hjälp av statistik kan du kontrollera fakta. Statistik finns till för alla som är intresserade eller som behöver statistik i sitt arbete, till exempel studenter, politiker, forskare och journalister.



Statistik är viktigt för samhället

Statistik kan visa hur det är nu, till exempel hur många som heter Andersson i efternamn och vilken grönsak som ökar mest i pris. Statistik kan visa hur något var i Sverige förr i tiden, till exempel vad människor arbetade med. Det finns också statistik som visar vad som kan hända i framtiden, till exempel hur många barn som kommer att födas.

Så gör SCB statistik

Statistikmyndigheten SCB ställer frågor och samlar in svar. Ibland skickar vi frågorna på papper. Ibland ringer vi och ställer frågor. Våra statistiker arbetar sedan med svaren och räknar fram statistik. Svaren visas ofta i tabeller eller diagram. Ingen som arbetar på SCB berättar för någon vad du har svarat. Alla som arbetar med frågorna har tystnadsplikt.

Varje år svarar 700 000 personer på frågor från SCB. Det är viktigt att alla svarar när SCB ställer frågor. Vi frågar många vuxna personer som bor i Sverige, inte bara svenska medborgare.

I lagen står det att statistiken ska delas upp efter kön. Det betyder att du kan se i statistiken om det finns skillnader mellan kvinnor och män, till exempel i statistiken om yrken och löner.

Alla kan ta del av statistiken

SCB använder statistik för att berätta om samhället. Statistiken ska vara korrekt. Den ska också vara lätt för alla att hitta och förstå. Politiker använder statistik ibland när de ska bestämma om framtiden, till exempel för att planera hur många skolor kommunen ska bygga. Statistiken över hur många treåringar som bor där gör att de förstår ungefär hur många skolor som behövs i framtiden.

SCB är en statlig myndighet. Vi säger aldrig vad vi tycker om något. Vi berättar vad vi vet med hjälp av siffror, tabeller och diagram.

SCB:s statistik är till för alla. Du kan hitta mer statistik på www.scb.se.

Övningar

1. Sant eller falskt?

Skriv S (sant) eller F (falskt) efter meningen.

- A. SCB arbetar med statistik.
- B. SCB:s statistik är dyr att köpa.
- C. Statistik kan bara visa hur det var förr i tiden.
- D. Bara svenska medborgare får frågor från SCB.
- E. SCB:s statistik ger korrekt information med siffror.

2. Berätta och diskutera

Fråga och svara varandra i par. Svara vad du tror, vet eller tycker. *Exempel: Vilket väder blir det i morgon? Jag tror att vädret blir soligt.*

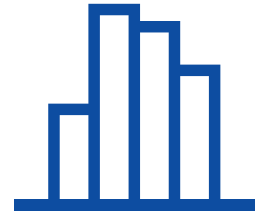
- Vad heter Sveriges huvudstad?
- Vad heter Sveriges näst största stad?
- Vem är Sveriges bästa fotbollsspelare?
- Vad är bra i Sverige?

3. Ordkunskap

Välj det ord eller de ord som passar i meningen.

diagram, frågor, SCB, siffror, tabeller, tystnadsplikt

- A. _____ arbetar med att ta fram statistik.
- B. Statistik är att beskriva något med _____.
- C. SCB _____ många människor varje år.
- D. Svaren syns i _____ och _____.
- E. De som arbetar på SCB har _____.



02

Människorna i Sverige

Sveriges befolkning har vuxit mycket sedan SCB började räkna folkmängden för över 260 år sedan. Hur snabbt befolkningen växer beror på hur många som föds, dör, invandrar och utvandrar.

I mitten av 1700-talet bodde det knappt 2 miljoner människor i Sverige. Redan då hade SCB börjat med statistik. Därför vet vi hur många som bodde i Sverige då. År 2018 hade Sverige mer än 10 miljoner invånare.

1767: 2 miljoner

Sverige hade 2 miljoner invånare 1767. Många dog av hunger och sjukdomar, och det föddes få barn. Därför minskade befolkningen i några år. Sju år senare var befolkningen över 2 miljoner igen.

1863: 4 miljoner

Under 1800-talet föddes många barn och fler barn överlevde. Människorna levde också längre än på 1700-talet. Varannan person blev 60 år. Hundra år tidigare blev bara var tredje person 60 år. Många svenskar utvandrade till Amerika.

1923: 6 miljoner

I början av 1900-talet växte industrierna och fler fick jobb. Människorna stannade kvar i landet i stället för att utvandra till Amerika. Det föddes också många barn.

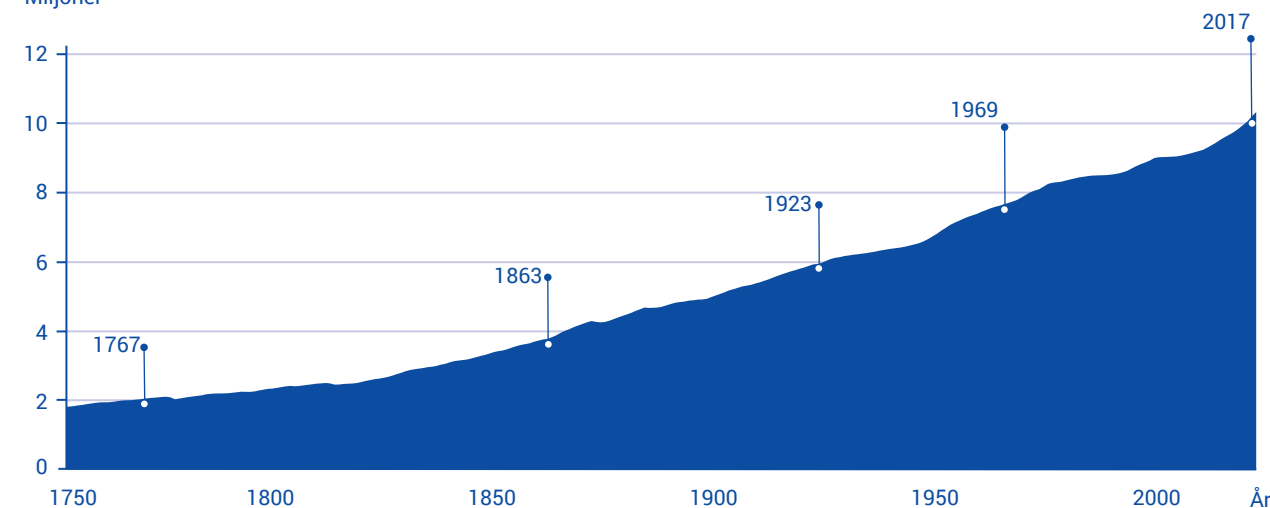
1969: 8 miljoner

Sverige behövde arbetskraft från andra länder. Många invandrade från Norge, Finland, dåvarande Jugoslavien och Tyskland för att jobba. Ovanligt många barn föddes. Sverige hade 8 miljoner invånare.

2017: 10 miljoner

Befolkningen ökade snabbare än tidigare. År 2004 var befolkningen 9 miljoner. På 13 år, mellan 2004 och 2017, ökade befolkningen med 1 miljon till 10 miljoner invånare. Nu är vi 10,3 miljoner. Sverige har kanske 11 miljoner invånare 2028.

Miljoner



Sveriges befolkning växer

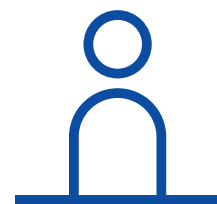
År 2019 ökade Sveriges befolkning med 97 404 personer. Att vi blir fler beror på att det föds fler människor än det dör. Det beror också på att fler personer invandrar till Sverige än som utvandrar. Alla personer med uppehållstillstånd är med i statistiken.

+ Invandring
- Utvandring
+ Födda
- Döda
= Befolkningsförändring

+97 404

personer

Flest utvandrade till Danmark
Det var 47 718 personer som utvandrade från Sverige. Grannlandet Danmark var det vanligaste landet att utvandra till. Dit utvandrade 3 794 personer.



115 805

personer invandrade till Sverige 2019

45 %

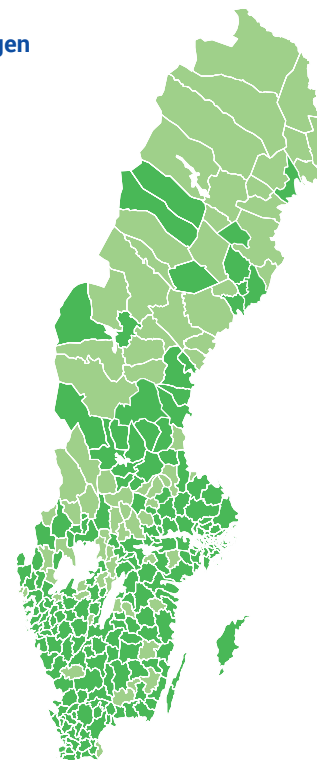
kommer från dessa 10 länder →

Invandring till Sverige (vanligaste födelseländerna)

| | | | |
|-------------------|----------------------|------------------|-------------------|
| Sverige 11 955 | Afghanistan 6 845 | Syrien 6 128 | Irak 3 601 |
| Indien 7 389 | Iran 3 485 | Eritrea 3 446 | Pakistan 3 225 |
| | | Polen 3 177 | Kina 2 934 |

Förändring av befolkningen i svenska kommuner

■ Folkökning
■ Folkminskning



De mest populära namnen på nyfödda flickor och pojkar

1. Alice / Lucas
2. Olivia / Liam
3. Astrid / William

228 264

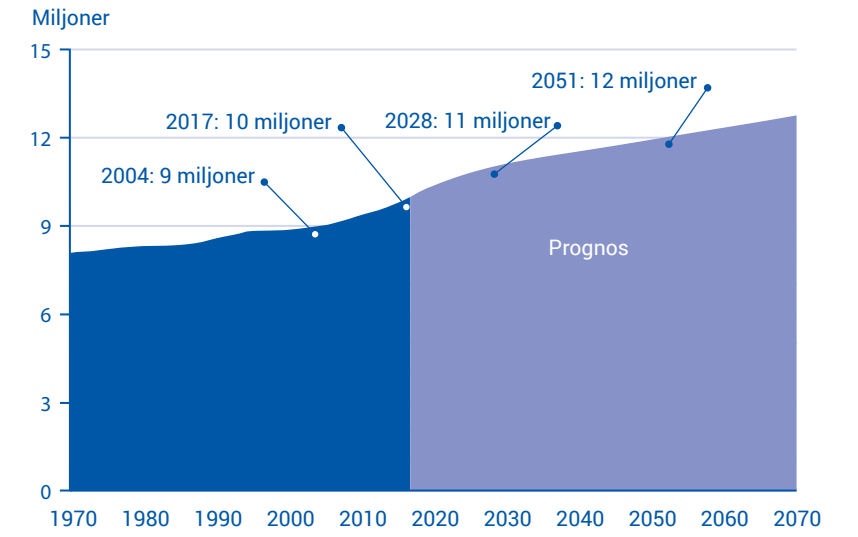
personer heter Andersson i efternamn.

Sök på ditt eget namn och få reda på hur många som heter som du!
www.scb.se/namnsok



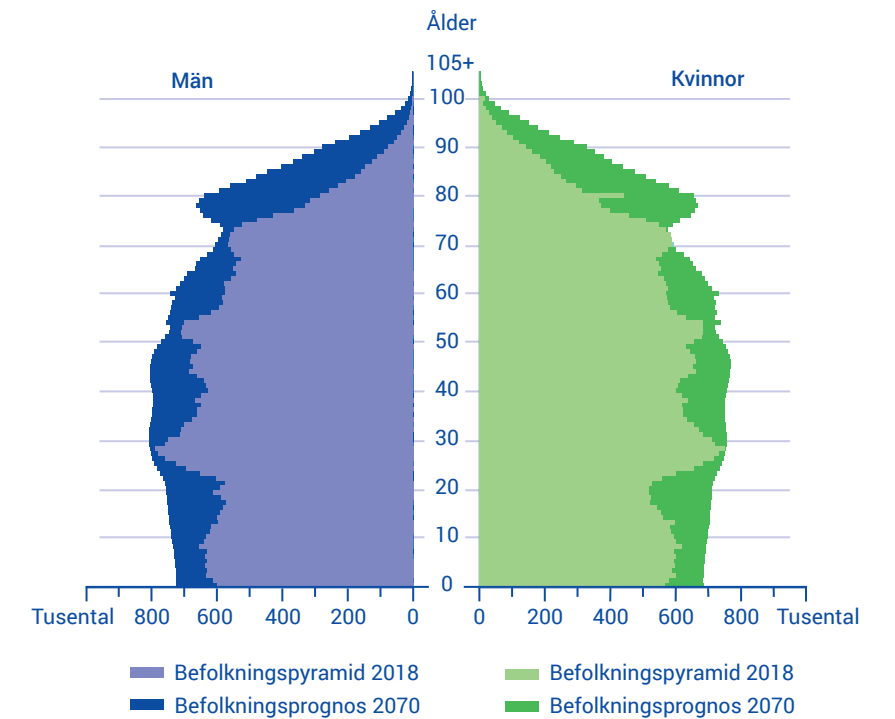
2070 blir vi 13 miljoner

En prognos är att försöka förklara hur det ska bli i framtiden. SCB:s statistiker har gjort en prognos för befolkningen i Sverige. Prognosen är att Sverige kommer att ha 11 miljoner invånare år 2028, 12 miljoner invånare 2051 och 13 miljoner invånare 2070.



Andelen äldre ökar mest

Ett sätt att visa statistik är med en befolkningspyramid. Den visar hur många personer i befolkningen som är i olika åldrar, till exempel hur många tusen män som är 40 år och hur många tusen kvinnor som är 70 år. Statistiken visar att det blir fler äldre personer i Sverige. År 2018 var nästan var femte person över 65 år. 2070 kommer var fjärde invånare att vara över 65 år.



Övningar



1. Grammatik

Skriv verben i dåtid (preteritum).

- SCB (börjar) _____ med statistik för över 260 år sedan.
- I mitten av 1700-talet (bor) _____ 2 miljoner människor i Sverige.
- På 1700-talet (dör) _____ många av hunger och sjukdomar.
- Därför (minskar) _____ befolkningen.
- 1863 (har) _____ Sverige 4 miljoner invånare.
- Människorna på 1800-talet (lever) _____ längre än på 1700-talet.
- I början av 1900-talet (får) _____ fler människor jobb.
- Ovanligt många barn (föds) _____ i slutet av 1960-talet.
- 2017 (har) _____ Sverige 10 miljoner invånare.
- Befolkningen (ökar) _____ snabbare än tidigare.

2. Sant eller falskt?

Skriv S (sant) eller F (falskt) efter meningens.

- Befolkningen minskade några år på 1770-talet.
- Människor levde längre på 1700-talet än på 1800-talet.
- Många svenskar utvandrade till Amerika på 1920-talet.
- Många invandrade till Sverige i slutet av 1960-talet.
- Prognosen för befolkningen är 11 miljoner invånare 2028.

3. Berätta och diskutera

Fråga och svara varandra i par. Svara vad du tror, vet eller tycker.

Exempel: Vilket födelseland var det vanligaste bland alla som invandrade 2019, förutom svenskar? Jag vet att det är Indien.

- Från vilka världsdelar kom de flesta som invandrade 2019?
- Från vilka länder kommer de flesta invandrare nästa år?
- Varför finns personer som är födda i Sverige med i statistiken?
- Varför är Danmark det vanligaste landet att utvandra till?
- Blev du förvånad över något i statistiken?

4. Sant eller falskt?

Titta på befolkningspyramiden på sidan 11. Skriv S (sant) eller F (falskt) efter meningens.

- Siffrorna i mitten av diagrammet visar tusental.
- Blå färg visar statistiken för kvinnor.
- Mörka färger visar en prognos för 2070.
- Det kommer att finnas ungefär lika många 90-åriga män som kvinnor 2070.

5. Grammatik

Svara vilken ordklass det understrukna ordet tillhör (adjektiv, substantiv eller verb).

- Ett sätt att visa statistik är med en befolkningspyramid.
- Den visar hur många personer i befolkningen som är i olika åldrar.
- Statistiken visar att det blir fler äldre personer i Sverige.
- 2018 var nästan var femte invånare över 65 år.
- 2070 kommer var fjärde person att vara över 65 år.

6. Berätta och diskutera

Fråga och svara varandra i par. Svara vad du tror, vet eller tycker.

- Varför lever kvinnor i Sverige längre än män?
- Varför ökar andelen äldre i Sverige?
- Vad behövs i ett samhälle när det blir fler äldre personer?
- Hur är det i ditt födelseland?
- Blev du förvånad över något i statistiken?

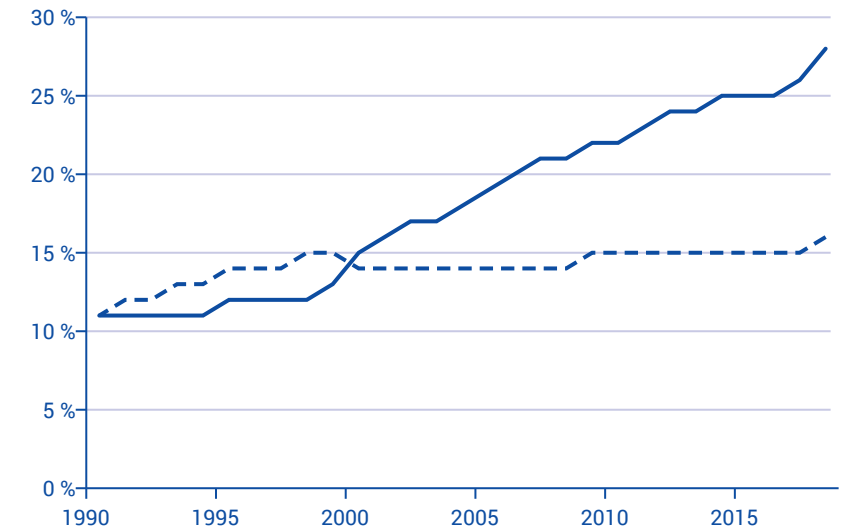
Utbildning, jobb och pengar

Arbetsmarknaden förändras hela tiden. Vad vi jobbar med och vilken utbildning vi har ser ut på ett annat sätt jämfört med för några årtionden sedan. Hur mycket du tjänar beror på vad du jobbar med och om du är ung, gammal, man eller kvinna.

Flera studerar längre


Det är flera som har hög utbildning än tidigare. 1990 hade var tionde person studerat i tre år eller mer efter gymnasiet. Nu har var tredje person över 25 år studerat så länge. De flesta som studerar på universitet och högskolor är kvinnor.

- Utbildning efter gymnasiet, tre år eller mer
- Utbildning efter gymnasiet, mindre än tre år



64 %

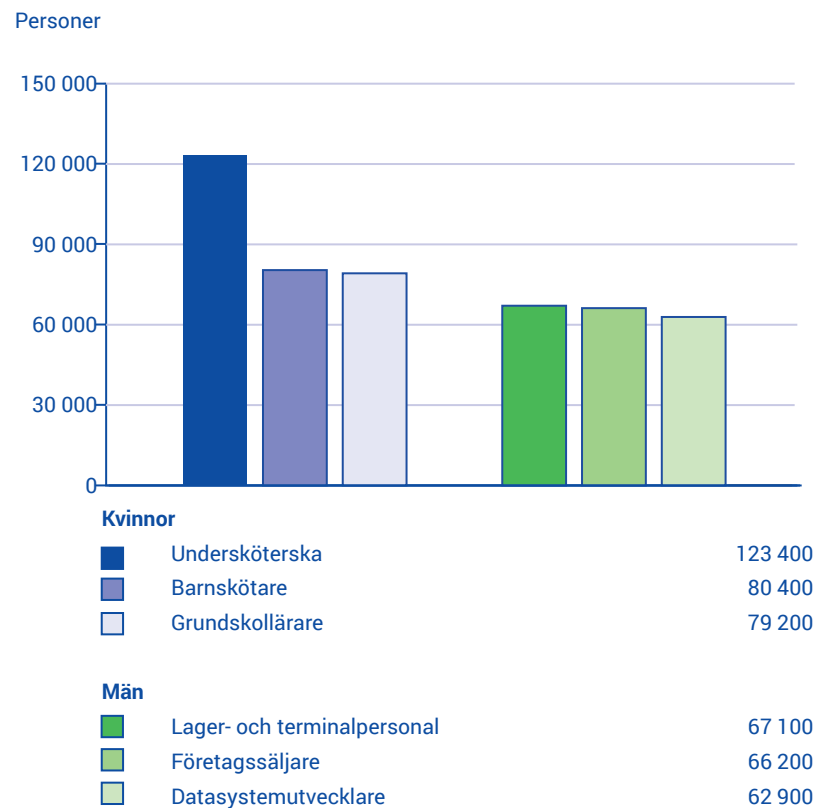
Det är 64 procent fler kvinnor som studerar vid svenska universitet och högskolor jämfört med män. Under läsåret 2018/2019 studerade 250 643 kvinnor och 159 584 män på någon utbildning på grundnivå eller avancerad nivå.



Vanliga yrken

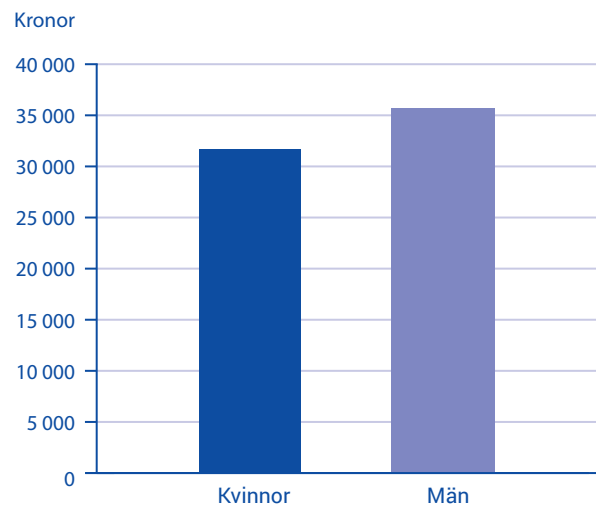
Kvinnors och mäns vanligaste yrken

Undersköterska är det vanligaste yrket bland kvinnor. En undersköterska arbetar till exempel i hemtjänsten eller på ett äldreboende. Det är nästan bara kvinnor som har det yrket. 91 procent av alla undersköterskor är kvinnor. Många kvinnor jobbar också som barnskötare på förskolor. Bland män är företagssäljare det vanligaste yrket. En företagssäljare säljer varor och tjänster till andra företag, till exempel mobilabonnemang. Lagerpersonal tar emot varor som kommer till ett lager och skickar till butiker och kunder.



Kvinnor har 89 procent av mäns lön

Kvinnorna tjänade 89 procent av vad männen tjänade 2018. Skillnaden i lön var 11 procent. En del av skillnaden kan bero på att kvinnor och män har olika yrken. Det kan också bero på olika utbildning eller arbetstid.



Medellön i Sverige
2018

34 600 kr

i månaden

Kvinnor tjänade

32 600 kr

i medellön per månad

Män tjänade

36 500 kr

i medellön per månad

Övningar



1. Sant eller falskt

Skriv S (sant) eller F (falskt) efter mening.

- A. Blå färg i diagrammet (sid 15) visar dem som har studerat minst tre år efter gymnasiet.
- B. Grön färg visar dem som har studerat mindre än tre år efter gymnasiet.
- C. 1993 hade drygt 10 procent studerat minst tre år efter gymnasiet.
- D. Nu har 28 procent studerat i minst tre år efter gymnasiet.

2. Berätta och diskutera

Fråga och svara varandra i grupper. Svara vad du tror, vet eller tycker.

- Varför är det mest kvinnor som studerar på universitet och högskolor i Sverige?
- Hur är fördelningen mellan kvinnor och män på universitet i ditt födelseland?
- Är det något du vill studera eller utbilda dig till efter SFI? Om ja, vad?

3. Ordkunskap

Välj det ord som passar i mening.

barnskötare, företagssäljare, grundskollärare, lagerpersonal, undersköterska

- A. Det vanligaste yrket bland kvinnor är _____.
- B. Det näst vanligaste yrket bland kvinnor är _____.
- C. Det vanligaste yrket bland män är _____.
- D. Det är vanligare bland män att vara _____ än datasystemutvecklare.
- E. Det är fler kvinnor som är _____ än män som är företagssäljare.

4. Berätta och diskutera

Fråga och svara varandra i par. Svara vad du tror, vet eller tycker.

- Varför är bara 9 procent av undersköterskorna män?
- Finns det andra yrken där det nästan bara är män eller nästan bara kvinnor? Om ja, vilka yrken?
- Vilket yrke i ditt födelseland är vanligt bland män respektive kvinnor?

5. Sant eller falskt?

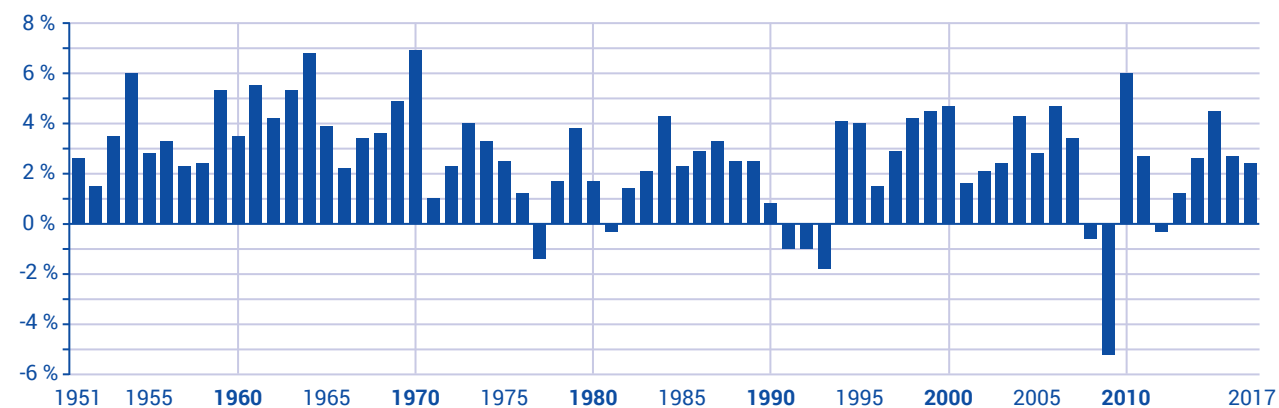
Skriv S (sant) eller F (falskt) efter mening.

- A. Statistiken om månadslön är från 2018.
- B. Kvinnor och män tjänade i genomsnitt lika mycket i månaden.
- C. Kvinnorna tjänade i genomsnitt 89 procent mer i månaden än männen.
- D. Anställda i Sverige tjänade i genomsnitt 35 700 kronor i månaden.
- E. Skillnaden i lön kan bero på att kvinnor och män ofta har olika yrken.

Samhällets ekonomi

Hur det går med Sveriges ekonomi mäts med bruttonationalprodukten, BNP. Den berättar inte bara om landets ekonomi utan även hur ett land har utvecklats. BNP är summan av allt som produceras i ett land.

Sveriges ekonomi har ökat och minskat



BNP tillväxt 1950–2018

Tillväxt är något som växer och blir större. BNP är värdet av varor och tjänster som ett land producerar under ett år. Varor är till exempel kläder och möbler. Tjänster får vi bland annat hos frisörer och på restauranger. BNP minskar när människor har mindre pengar att köpa varor och tjänster för. Det gör att företagen minskar sin produktion.

1960-talet

Andra världskriget slutade 1945. Mycket var förstört i Europa och många länder behövde byggas upp igen. Svensk industri fick mycket att göra och producerade maskiner till flera länder. Mellan åren 1960 och 1965 växte BNP med i genomsnitt 5 procent per år.

1970-talet

Priset på olja blev dyrare och lönerna blev högre. Det gjorde att det blev dyrare för svensk industri att

producera. Sverige fick en ekonomisk kris och BNP minskade.

1990-talet

Att investera är att köpa något man vill tjäna pengar på i framtiden. En ekonomisk kris gjorde att utländska investerare valde att investera i andra länder än Sverige. BNP minskade mellan 1991 och 1994.

2000-talet

Banker, länder och människor lånade pengar och hade höga skulder. I många länder blev det en ekonomisk kris. 2009 minskade BNP med över 5 procent.

2010-talet

Sveriges ekonomi blev bättre efter krisen på 2000-talet. Mellan 2015 och 2017 ökade BNP med 2,7 procent. 2018 var BNP 4 834 miljarder kronor, en ökning med 2,3 procent jämfört med året innan.

Arbetslösheten i Sverige

SCB undersöker hur många som är arbetslösa. Därför ringer SCB till mer än 29 500 personer varje månad och frågar dem om arbete. Personerna vi ringer är 15–74 år. Vi frågar till exempel personerna om de har jobb eller inte har jobb och om de söker jobb. I framtiden kanske det är du som blir uppringd av SCB.

Arbetslösa i statistiken från SCB är:

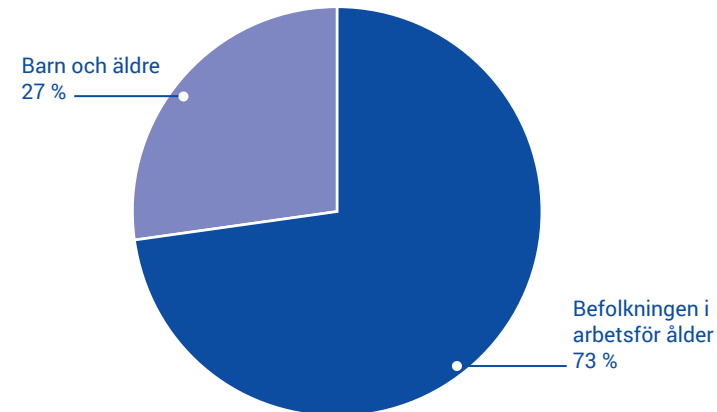
- Personer som kan arbeta och söker arbete, men inte har ett jobb.
- Personer som ska börja arbeta inom tre månader, men kan börja arbeta tidigare.

Sysselsatta i statistiken från SCB är:

- Personer som har arbetat en timme eller mer den veckan som SCB ställer frågor om.
- Personer som är hemma från jobbet och är sjuka, har semester eller är föräldralediga.

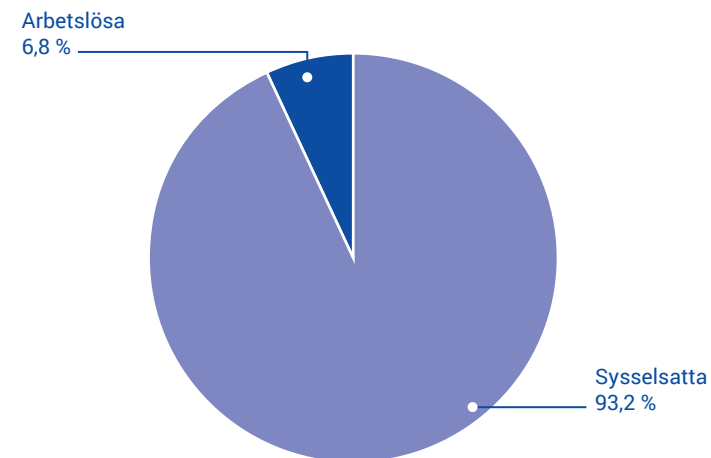
Befolkningen i arbetsför ålder

Av befolkningen på 10,3 miljoner är 73 procent eller 7 510 000 personer i arbetsför ålder (15–74 år).



Arbetslösa och sysselsatta

På arbetsmarknaden är 372 700 personer eller 6,8 procent arbetslösa. De som jobbar/sysselsatta är 5 131 600 personer.



Handel

Handel av varor

Sverige köper varor från andra länder. Kläder, skor och olja är exempel på varor vi importerar. Sverige säljer också varor till andra länder. Bilar, läkemedel och papper är exempel på varor vi exporterar. Den mesta handeln är med länder i Europa. Sverige importerade mycket från Tyskland. Vi importerade även från Nederländerna, Norge, Danmark och Kina. Norge och Tyskland var de länder Sverige exporterade mest varor till.

Import (i miljarder kronor)

| | |
|----------------|-----|
| Tyskland | 268 |
| Nederländerna | 141 |
| Norge | 137 |
| Danmark | 100 |
| Kina | 77 |
| Finland | 74 |
| Storbritannien | 68 |
| Belgien | 66 |
| Polen | 63 |
| Frankrike | 57 |

Export (i miljarder kronor)

| | |
|----------------|-----|
| Norge | 162 |
| Tyskland | 160 |
| USA | 121 |
| Finland | 108 |
| Danmark | 106 |
| Storbritannien | 82 |
| Nederländerna | 80 |
| Kina | 72 |
| Frankrike | 62 |
| Belgien | 61 |



Total import av varor
2019

1501

miljarder kronor

Total export av varor
2019


1518

miljarder kronor



Så här mycket frukt och godis köper vi

Vi köper frukt för i genomsnitt 29 kronor per person i veckan och köper godis för 42 kronor.



Övningar



1. Grammatik

Skriv verben i dåtid (preterium).

- A. Många länder (behöver) _____ byggas upp igen efter andra världskriget.
- B. Svensk industri (producerar) _____ maskiner till flera länder i Europa.
- C. På 1970-talet (bli) _____ priset på olja dyrare.
- D. Sverige (får) _____ en ekonomisk kris och BNP (minskar) _____
- E. Krisen (gör) _____ att utländska investerare (väljer) _____ att investera i andra länder än Sverige.
- F. På 2000-talet (lånar) _____ banker, länder och människor pengar.
- G. De (har) _____ höga skulder.
- H. På 2010-talet (blir) _____ Sveriges ekonomi bättre under flera år.

2. Sant eller falskt?

Skriv S (sant) eller F (falskt) efter meningens.

- A. BNP växte i genomsnitt med 25 procent per år 1960–1965.
- B. En ekonomisk kris på 1970-talet gjorde att BNP minskade.
- C. Den ekonomiska krisen gjorde att många investerade i Sverige.
- D. I många länder blev det en ekonomisk kris på 2000-talet.
- E. Sveriges ekonomi blev bättre efter krisen på 2000-talet.

3. Sant eller falskt?

Skriv S (sant) eller F (falskt) efter meningens.

- A. SCB ringer till alla arbetslösa i Sverige.
- B. SCB ringer till drygt 29 000 personer varje månad.
- C. Personerna SCB ringer och frågar om arbete är över 18 år.
- D. I statistiken kallas de som arbetar för sysselsatta.
- E. I statistiken kallas de för arbetslösa som ska börja arbeta inom tre månader, men kan börja tidigare.

Övningar

4. Grammatik

Svara vilken ordklass det understrukna ordet tillhör (adjektiv, substantiv eller verb).

- A. SCB mäter hur många i Sverige som är arbetslösa.
- B. SCB ringer till tusentals personer varje månad och frågar om arbete.
- C. SCB frågar personerna om de har jobb, inte har jobb eller om de söker jobb.
- D. En del arbetslösa personer ska börja jobba om tre månader.
- E. En del personer har arbete, men är hemma från jobbet och är föräldralediga.

5. Sant eller falskt?

Skriv S (sant) eller F (falskt) efter meningen.

- A. Siffrorna visar importen i miljoner kronor per år.
- B. Sverige importerade de flesta varorna från Europa.
- C. Sverige exporterade de flesta varorna till Kina.
- D. Sverige importerade mer från Norge än från Finland.
- E. Sverige importerade mer varor än vi exporterade.

6. Berätta och diskutera

Fråga och svara varandra i par. Svara vad du tror, vet eller tycker.

- Blev du förvånad över något i statistiken?
- Hur mycket köper du frukt för i veckan? Är det mer eller mindre än genomsnittet?
- Hur mycket köper du godis för i veckan? Är det mer eller mindre än genomsnittet?

Facit

SCB beskriver Sverige med statistik

- 1. Sant eller falskt
 - A. Sant
 - B. Falskt
 - C. Falskt
 - D. Falskt
 - E. Sant

3. Ordkunskap

- A. SCB
- B. siffror, tabeller eller diagram
- C. frågar
- D. diagram och tabeller (eller: tabeller och diagram) eller siffror
- E. tystnadsplikt

Människorna i Sverige

- 1. Grammatik
 - A. började
 - B. bodde
 - C. dog
 - D. minskade
 - E. hade
 - F. levde
 - G. fick
 - H. föddes
 - I. hade
 - J. ökade

2. Sant eller falskt?

- A. Sant
- B. Falskt
- C. Falskt
- D. Sant
- E. Sant

4. Sant eller falskt?

- A. Falskt
- B. Falskt
- C. Sant
- D. Sant

5. Grammatik

- A. Substantiv
- B. Verb
- C. Adjektiv
- D. Substantiv
- E. Verb

Utbildning, jobb och pengar

- 1. Sant eller falskt
 - A. Sant
 - B. Falskt
 - C. Sant
 - D. Sant

3. Ordkunskap

- A. undersköterska
- B. barnskötare
- C. lagerpersonal
- D. företagssäljare
- E. grundskollärare

5. Sant eller falskt?

- A. Sant
- B. Falskt
- C. Falskt
- D. Falskt
- E. Sant

Samhällets ekonomi

1. Grammatik

- A. behövde
- B. producerade
- C. blev
- D. fick, minskade
- E. gjorde, valde
- F. lånade
- G. hade
- H. blev

2. Sant eller falskt?

- A. Falskt
- B. Sant
- C. Falskt
- D. Sant
- E. Sant

3. Sant eller falskt?

- A. Falskt
- B. Sant
- C. Falskt
- D. Sant
- E. Sant

4. Grammatik

- A. Adjektiv
- B. Substantiv
- C. Verb
- D. Substantiv
- E. Adjektiv

5. Sant eller falskt?

- A. Falskt
- B. Sant
- C. Falskt
- D. Sant
- E. Falskt

Sverige i siffror

I det här häftet får du veta mer om Sverige med hjälp av statistik och siffror från den svenska statistikmyndigheten SCB. Till varje avsnitt finns olika övningar. Längst bak i häftet hittar du de rätta svaren. Trevlig läsning!

